



ATBILŽU LAPA

Acīgais Vanags Brīvdabas muzejā!

Brīvajā vietā ierakstiet atbildi uz jautājumu! Objektu numerācija aplī atbilst muzeja kartei, bet attēls ir norāde, kur lūkoties pēc atbildes. Vēlam veiksmi un izdošanos!

1

“Līdumu” namelis




Kam ir izmantota pārzāgētā (vertikālā) laiva pie “Līdumu” *nameļa*?

Atbilde: Pie *nameļa* no vecas, pārzāgētas zvejas laivas uzstādīts dūmnams jeb namiņš, lietots kā vasaras virtuve un zivju žāvētava.

2

“Dēliņu” sētas ēkas



Vai vari saskaitīt cik naglas izmantotas lībiešu zemnieka-zvejnieka sētas žogam pie ceļa?

Atbilde: Neviena! Ik pēc kārts gropē ir ievietots koka klucītis, atstājot starp kārtīm spraugas. Šāda veida žogam bija taupīgāks materiālu lietojums.

3




“Dēliņu” dzīvojamā māja

Cik putnu būrīši paslēpušies lībiešu sētā?

Atbilde: 3 putnu būrīši – uz dzīvojamās mājas, uz klēts un uz kūts - šķūņa.

4



**“Mauru” dzīvojamās mājas
pagalms un “Grabu” pirts ar
vārāmo namiņu**

**Kādam nolūkam pirtij sānu sienā izveidots
caurums?**

Atbilde: Lai novadītu dūmus un nodrošinātu gaismu.

5




Tīklu būdas

**No kāda materiāla katram namam
jumts?**

Atbilde: Jumti segti ar lubām, dēļiem un niedrēm.

6

“Beķeru” kūts-laidars



Cik gaiļu pāri ir “Beķeru” kūtij uz jumta spāru galos?

Atbilde: Divi gaiļu pāri.

**Kādu latviešu spēka zīmi tie veido?
Pārzīmējiet tos!**



Atbilde: Jumja zīme.

7

“Lurķu” dzīvojamā māja - laidars



**Kādas formas vējrādītājs rotā
“Lurķu” mājas jumtu? No kura
gada celtne ir muzejā?**

Atbilde: “Lurķi” ir zvejniekciema saimniecība un uz tās jumta atbilstoši ir vējrādītājs zivs formā. Dzīvojamā māja celta 19.gs. 80.gados. Muzejā kopš 1983. gada.

Paldies, ka piedalījies!